



Musiktheorie Arbeitsblatt 1

Name _____

Datum _____

1. Wie wird der Violinschlüssel noch genannt? _____ 

2. Wie wird der Bassschlüssel noch genannt? _____ 

3. Benenne und erkläre ggf. folgende Noten-/Pausenwerte, Symbole und Abkürzungen:



cresc.

rit.

mf

4. Schreibe und erkläre ggf. folgende Noten-/Pausenwerte und Symbole:

Fermate:


halbe Note:

ganze Pause:

Viertel Pause:

Dynamikzeichen für "laut":

5. Schreibe eine Achtel-Triole auf:



6. Vervollständige diesen Takt rhythmisch durch nur eine Note:



7. Benenne die Noten:



8. Schreibe folgende Noten auf:

h - his - b - des - cis - ais

